

東灣莫羅瑞華學校
小學四年級數學工作紙

姓名：_____ 日期：_____

(一) 計算下列各題。

1. $12 \times 87 =$

2. $25 \times 11 \times 3 =$

3. $524 \div 43 =$

4. $238 \times 56 =$

5. $96 \div 12 =$

6. $414 \div 23 \div 9 =$

(二) 回答下列各題。

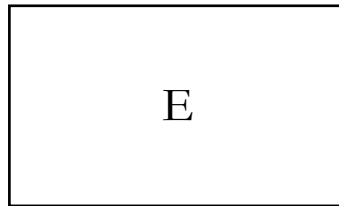
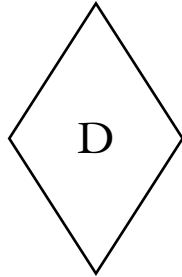
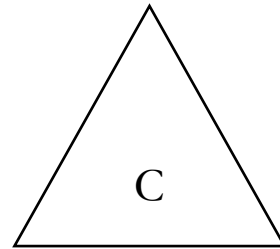
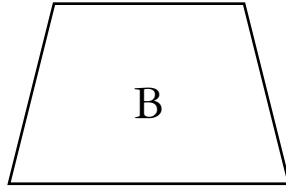
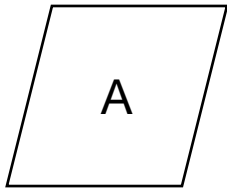
1. 寫出 21 的最初三個倍數。

答案：_____；_____；_____

2. 把 36 和 48 的公因數圈出來。

2 5 6 14 16 48 144

3.



以上哪些是梯形?把代表答案的英文字母填在橫線上。

答案: _____

以上哪個是菱形?把代表答案的英文字母填在橫線上。

答案: _____

4. 24 和 18 的最小公倍數是_____

(三) 列式計算下列各題。

1. 每個橙約重 180 克，每箱橙有 65 個，即一箱橙約重多少克?

2. 423 件玩具平均分給 70 名小朋友，每名小朋友可分得玩具多少件?

